

NOMBRE _____
FECHA _____

PROBLEMAS PARA DIVIDIR


actiludis.com (cc) BY-NC-SA imágenes: freepik.com designed by

(MÁS DE 5 CIFRAS ENTRE 1)

algoritmos
abn

Averigua que columpio del parque tiene más visitas. Haz los problemas y el resultado te dirá cuantos se han subido.

En todo el mes se han subido veintitres mil cuatrocientas cincuenta y seis veces en éste tobogán. ¿Cuántas veces son esa cantidad repartida en las semanas del mes?



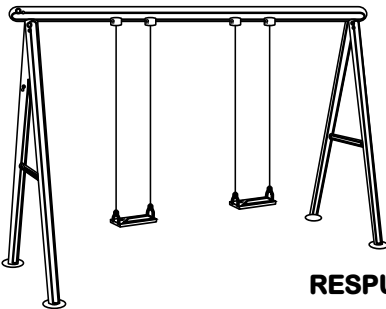
RESPUESTA:

Todos los columpios del parque costaron treinta y ocho mil seiscientos cuarenta y seis euros. Si se pagaron en tres plazos. ¿Cuánto se pago en cada plazo?



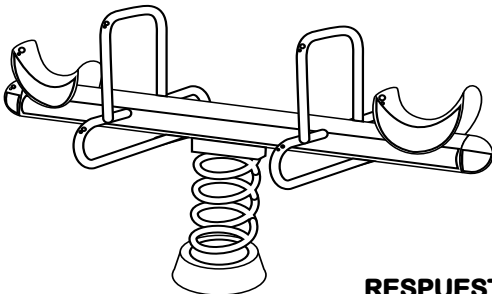
RESPUESTA:

En éste se han subido durante un mes cuarenta y ocho mil setecientos cuarenta y ocho veces. Si de esa cantidad de veces se han subido las mismas en los dos columpios. ¿Cuántas veces de esas han sido en cada uno?



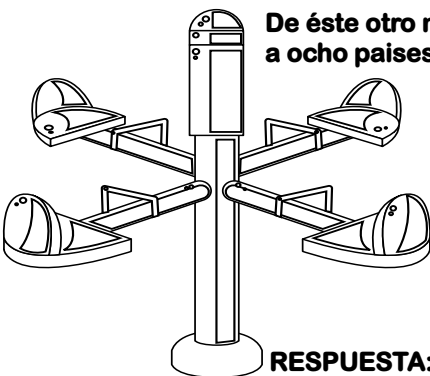
RESPUESTA:

El fabricante de este modelo de balancín hizo ochenta mil quinientas sesenta y ocho unidades. Si las envió a nueve países distintos. ¿Cuántos envió a cada uno de esos países?



RESPUESTA:

De éste otro modelo, fabricaron cincuenta mil seiscientos dieciseis unidades y las enviaron a ocho países distintos. ¿Cuántos enviaron a cada uno?



RESPUESTA: